



REINGRESSO E MUDANÇA DE CURSO	2019	GEOGRAFIA
--	-------------	------------------

CADERNO DE QUESTÕES

INSTRUÇÕES AO CANDIDATO

- Você deverá ter recebido o Caderno com a Proposta de Redação, a Folha de Redação, dois Cadernos de Questões e o Cartão de Respostas com o seu nome e o número de inscrição e modalidade de ingresso. Confira se seus dados no Cartão de Respostas estão corretos e, em caso afirmativo, assine-o e leia atentamente as instruções para seu preenchimento.
- Verifique se este Caderno contém enunciadas 20 (vinte) questões de múltipla escolha de **GEOGRAFIA** e se as questões estão legíveis, caso contrário **informe imediatamente ao fiscal**.
- Cada questão proposta apresenta quatro opções de resposta, sendo apenas uma delas a correta. A questão que tiver sem opção assinalada receberá pontuação zero, assim como a que apresentar mais de uma opção assinalada, mesmo que dentre elas se encontre a correta.
- Não é permitido usar qualquer tipo de aparelho que permita intercomunicação, nem material que sirva para consulta.
- O tempo disponível para a realização de todas as provas, incluindo o preenchimento do Cartão de Respostas é, no mínimo, de **uma hora e trinta minutos** e, no máximo, de **quatro horas**.
- Para escrever a Redação e preencher o Cartão de Respostas, use, exclusivamente, caneta esferográfica de corpo transparente de ponta grossa com tinta azul ou preta (preferencialmente, com tinta azul).
- Certifique-se de ter assinado a lista de presença.
- Quando terminar, entregue ao fiscal a Folha de Redação, que será desidentificada na sua presença, e o Cartão de Respostas, que poderá ser invalidado se você não o assinar. Se você terminar as provas antes de três horas do início das mesmas, entregue também ao fiscal os Cadernos de Questões e o Caderno com a Proposta de Redação.

AGUARDE O AVISO PARA INICIAR SUAS PROVAS.

01 Considere o texto sobre a integração econômica na América do Norte.

UMA RENEGOCIAÇÃO DESCONCERTANTE

Após quatorze meses de um diálogo às vezes virulento, efetivou-se a assinatura do Tratado Estados Unidos – México – Canadá (USMCA, na sigla em inglês). A nova designação abandona as expressões “livre-comércio” e “América do Norte”, duas bandeiras vermelhas para a direita “ultra” do Partido Republicano. Donald Trump afirmou que o USMCA se tornou “o acordo comercial mais moderno e mais equilibrado da história de nosso país”. O USMCA reflete uma preocupação exacerbada com a soberania nacional: reconhece explicitamente o direito das partes de decidir as políticas que colocarão em prática. Esse dispositivo poderia oferecer aos dois irmãos menores, Canadá e México, uma margem um pouco mais ampla de manobra.

CARLSEN, L. *Le Monde Diplomatique Brasil*, Ano 12, n. 136, nov. 2018, p. 18. Adaptado.

Esse novo tratado substitui o seguinte bloco de integração regional:

- (A) ALCA.
- (B) NAFTA.
- (C) ANSEAN.
- (D) CARICOM.

02 Analise o texto sobre a integração regional da América do Sul.

POR UM FIO

Sem secretário-geral e com metade dos fundadores afastados, a União de Nações Sul-Americanas (UNASUL) agoniza em penúria e dissenso político. A crise econômica, a polarização ideológica e a crise na Venezuela puseram em xeque após uma década, o único fórum exclusivo da América do Sul. Criada por impulso do Brasil e sob a liderança dos então presidentes Lula da Silva, Néstor Kirchner e Hugo Chávez, na atual avaliação do governo brasileiro, a UNASUL nasceu relevante, para articular respostas a problemas regionais, mas se perdeu por vinculação à esquerda.

COPLE, J. *O Globo*, Mundo, 09 dez. 2018, p. 37. Adaptado.

Desde a sua criação em 2008, o líder regional e principal responsável pelo orçamento da UNASUL é o:

- (A) Peru.
- (B) Chile.
- (C) Brasil.
- (D) Paraguai.

03 Analise o texto a seguir sobre a Ásia.

A CHANTAGEM DE KIM

Em novembro de 2017, depois de fugir da Coreia do Norte para a Coreia do Sul, o diplomata Thae Yong-ho deu um depoimento ao Comitê de Relações Exteriores do Congresso americano. Thae foi claro ao dizer que o ditador Kim Jong-un vê no desenvolvimento dos mísseis balísticos uma maneira de evitar a desintegração de sua dinastia. Para ele, a prosperidade da Coreia do Sul é uma ameaça constante. Mas, para neutralizá-la, não basta amedrontar o vizinho. É necessário exigir que sejam retirados da península os militares americanos.

TEIXEIRA, D. Época, 14 mar. 2018, p. 59. Adaptado.

As tensões geopolíticas do líder norte-coreano com os Estados Unidos e a Coreia do Sul estão centralizadas no seguinte problema:

- (A) globalização econômica da Indochina.
- (B) nuclearização militar da Coreia do Norte.
- (C) internacionalização cultural da Coreia do Sul.
- (D) desmilitarização da República Popular da China.

04 Analise o texto sobre a economia mundial.

EUA E CHINA VÃO À OMC CONTRA TAXAS

Estados Unidos e China entraram com recursos na Organização Mundial do Comércio (OMC). Donald Trump decidiu sobretaxar as importações de aço e alumínio em 10% e 25%, respectivamente. O Ministério do Comércio da China informou ter entrado com uma reclamação na OMC em relação à lista de tarifas propostas por Washington sobre US\$ 200 de produtos chineses. Desde julho já vigoram taxas mútuas sobre US\$ 34 bilhões de importações chinesas e americanas.

O Globo, Economia, 17 jul. 2018, p. 19. Adaptado.

Essa situação internacional refere-se diretamente ao seguinte fenômeno:

- (A) guerra econômica entre potências globais.
- (B) desajuste global entre corpos diplomáticos.
- (C) confronto militar entre potências mundiais.
- (D) disputa política entre organismos multilaterais.

05 Leia o comentário do ganhador do Prêmio Nobel da Paz de 2005.

OUTRA GUERRA NO ORIENTE MÉDIO SERIA UM ARMAGEDON

O presidente Donald Trump tem indicado que vai retirar os Estados Unidos do acordo com o Irã. Quais os efeitos dessa ameaça? O Oriente Médio está implodindo. Então, você não deseja adicionar gasolina ao fogo. Trabalhei muitos anos no caso do Irã, e levou uma década para se chegar a um acordo que dava aos iranianos a chance de viver sem sanções para desenvolver sua sociedade, sua economia. Espero que os americanos repensem. Espero que tenham aprendido com a atuação no Iraque. Não vimos nenhuma indicação de armas de destruição em massa no Iraque, mas os americanos e ingleses, naquele tempo, continuaram a tentar adivinhar.

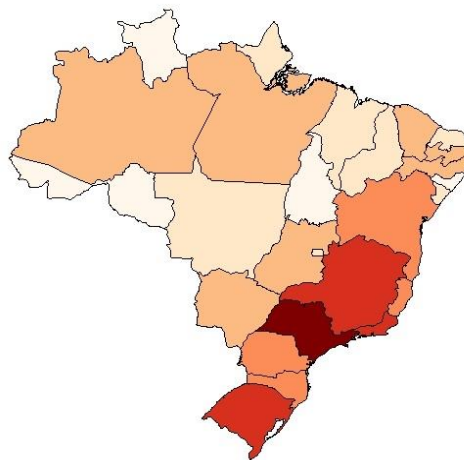
Mohamed ElBaradei, em entrevista a Gian Amato. *O Globo*, Mundo, 04 maio 2018, p. 22. Adaptado.

O acordo mencionado tem como objetivo principal:

- (A) instalar usinas atômicas na região.
- (B) criar uma agência nuclear regional.
- (C) conter o programa nuclear iraniano.
- (D) integrar as economias de Irã e Iraque.

06 Analise a imagem sobre Investimento Estrangeiro da Indústria (IED).

Distribuição do IED da Indústria por UF - 2010



Disponível em: <https://analisereal.com/2014/01/11/investimento-estrangeiro-direto-no-brasil-por-estado-industria/>. Acesso em: 10 dez. 2018.

A distribuição de IED no Brasil indica a persistência do seguinte processo:

- (A) diversificação produtiva na Amazônia.
- (B) concentração industrial no Centro-Sul.
- (C) internacionalização da manufatura do Sul.
- (D) modernização da agroindústria do Nordeste.

07 Analise o texto sobre a urbanização brasileira.

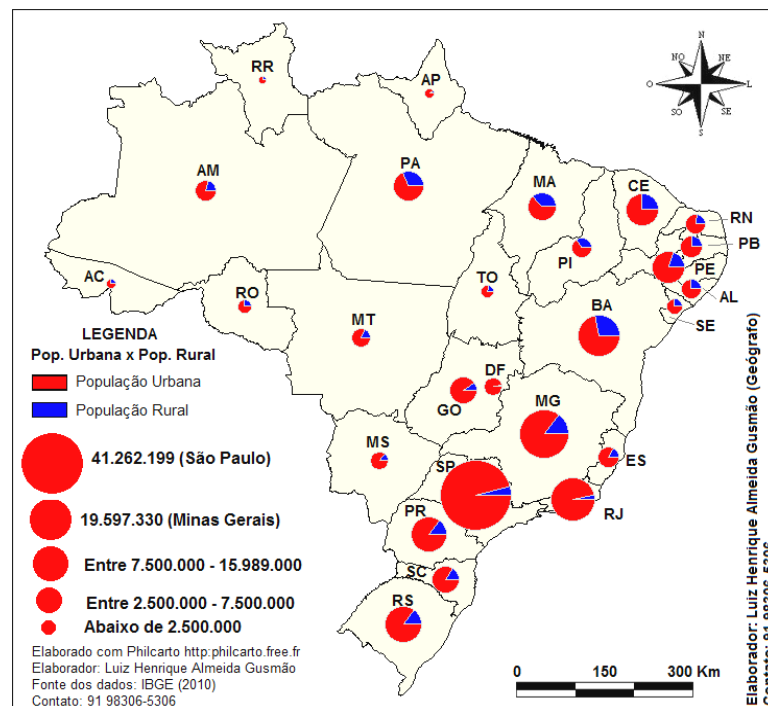
A mudança na direção dos fluxos migratórios e na estrutura da rede urbana é resultado de uma contínua e crescente reestruturação e integração dos espaços urbano e rural. Isso resulta da dispersão espacial das atividades econômicas, intensificada a partir dos anos 1980, e a formação de novos centros regionais, que alteraram o padrão hegemônico das metrópoles na rede urbana do país. As metrópoles não perderam a sua primazia, mas os centros urbanos regionais não metropolitanos assumiram algumas funções até então desempenhadas apenas por elas.

MOREIRA, J.; SENE, E. *Geografia Geral do Brasil*. São Paulo: Scipione, 2017, p. 215.

Essa alteração do padrão hegemônico das metrópoles na rede urbana corresponde ao processo de:

- (A) formação das megacidades.
- (B) surgimento de megalópoles.
- (C) início da involução metropolitana.
- (D) criação das regiões metropolitanas.

08 Analise a imagem sobre a distribuição da população rural e urbana no Brasil.



Disponível em: <http://geocartografiadigital.blogspot.com/2016/01/brasil-cartografia-da-populacao-com-o.html>.
Acesso em: 10 dez. 2018.

Em termos numéricos relativos, os estados nordestinos com maior população rural são:

- (A) Piauí e Maranhão.
- (B) Bahia e Maranhão.
- (C) Ceará e Pernambuco.
- (D) Pernambuco e Bahia.

09 Analise o texto sobre a regionalização brasileira.

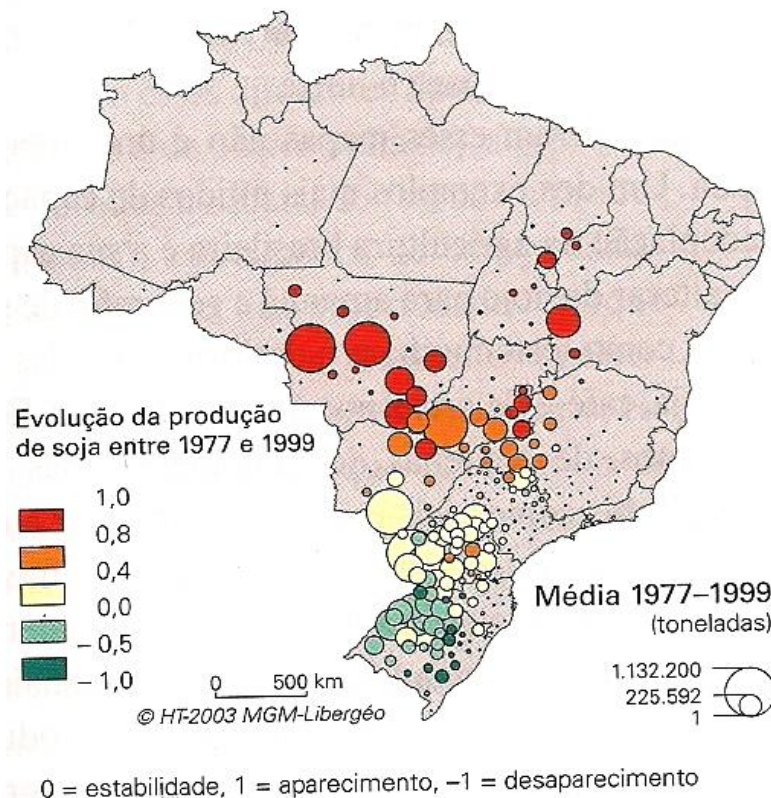
Poderíamos, grosseiramente, reconhecer a existência de quatro Brasis, ou seja, regiões específicas dentro do País. Num desses Brasis, verifica-se a implantação mais consolidada dos dados da ciência, da técnica e da informação, além de uma urbanização importante, com um padrão de consumo das empresas e das famílias mais intenso. Nele se produzem novíssimas formas específicas de terciário superior, um quaternário e um quinquinário ligados à finança, à assistência técnica e política e à informação em suas diferentes modalidades.

SANTOS, M. e SILVEIRA, M. *O Brasil. Território e sociedade no início do século XXI*. Rio de Janeiro: Record, 2001, p. 268-269. Adaptado.

A descrição regional mencionada refere-se à porção do território nacional denominada:

- (A) Centro-Oeste.
- (B) Faixa de fronteira.
- (C) Campanha gaúcha.
- (D) Região concentrada.

10 Analise a imagem sobre a expansão da soja no Brasil.



Disponível em: <http://marcosbau.com.br/geobrasil-2/1211-2/>. Acesso em: 10 dez. 2018.

No período, a evolução da produção de soja no território nacional apresentou maior estabilidade no seguinte estado:

- (A) Goiás.
- (B) Bahia.
- (C) Paraná.
- (D) Mato Grosso.

11 Analise o texto sobre migração no Brasil.

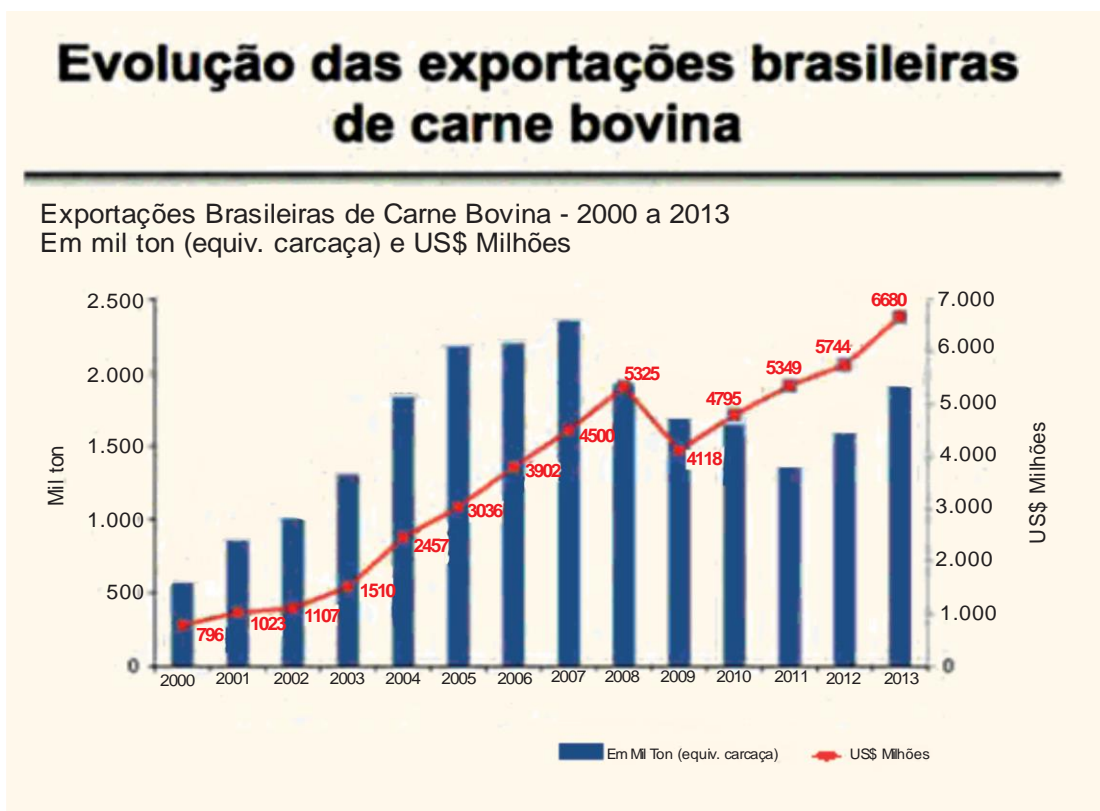
O Censo de 2010 apontou uma redução no volume total de migrantes, que caiu de 3,3 milhões de pessoas no quinquênio 2004-2009. Atualmente, as atividades econômicas tornaram-se mais diversificadas em todas as regiões. Além disso, a “guerra fiscal” travada entre os estados leva a uma relativa desconcentração industrial. Esse processo tem alterado a dinâmica do fluxo populacional, caracterizado pelo crescimento das cidades médias em um ritmo superior ao das metrópoles, particularmente no Sudeste.

LUCCI, E. et al. *Território e Sociedade no Mundo Globalizado*. São Paulo: Saraiva, 2017. p. 211. Adaptado.

No período, a dinâmica demográfica do Sudeste apresenta o seguinte comportamento:

- (A) o saldo líquido migratório positivo mais elevado do país, em razão do crescimento das cidades médias e do agronegócio.
- (B) um polo importante de emigração, apesar da expansão das indústrias de tecnologia de ponta e da elevada metropolização.
- (C) o polo mais intenso da migração de retorno, em função da chegada de nordestinos, especialmente em São Paulo e Rio de Janeiro.
- (D) um saldo líquido migratório negativo, apesar de São Paulo, Espírito Santo e Rio de Janeiro apresentarem saldo positivo.

12 Analise a imagem a seguir.



Disponível em: <http://angloresolve.plurall.net/press/question/1403987>. Acesso em: 10 dez. 2018. Adaptado.

Na década de 2010, o faturamento da exportação brasileira de carne bovina

- (A) cresce aceleradamente, devido ao mercado asiático.
- (B) amplia-se regularmente, devido ao mercado sul-americano.
- (C) desenvolve-se moderadamente, devido ao mercado europeu.
- (D) expande-se rapidamente, devido ao mercado latino-americano.

13 Analise o texto sobre questão de gênero e ação do Estado no Brasil.

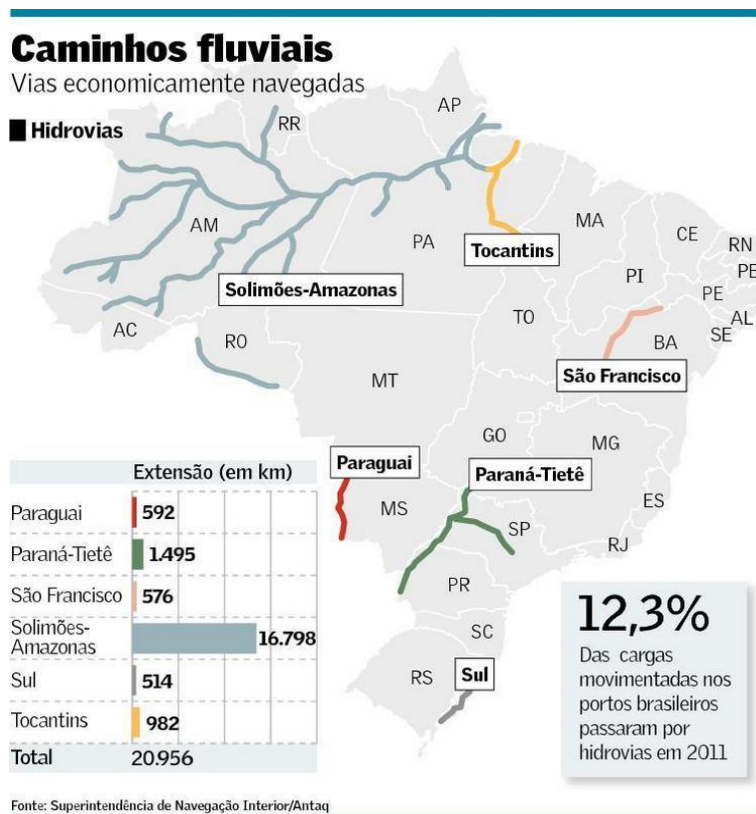
Casos de desrespeito, preconceito e violência contra lésbicas, gays, bissexuais, travestis, transexuais e transgêneros, denominado LGBT, vêm sendo cada vez mais denunciados. A mídia e diferentes grupos ativistas vêm denunciando casos de assassinato de homossexuais no Brasil. Somam-se à discriminação por homofobia, inúmeros casos de intimidação, piadas preconceituosas e exclusão em diferentes grupos sociais, como no trabalho, na escola e até mesmo na família. Visando rever esse quadro, desde o início deste século, o governo brasileiro vem buscando implementar ações contra o preconceito à identidade sexual. Um exemplo é o programa Brasil Sem Homofobia, desenvolvido pelo governo federal.

LUCCI, E. et al. *Território e Sociedade no Mundo Globalizado*. São Paulo: Saraiva, 2017. p. 151. Adaptado.

Essa ação do governo federal brasileiro visa fundamentalmente à

- (A) promoção da cidadania homossexual, por meio de políticas públicas.
- (B) criação de um sistema de ensino, por meio de escolas específicas para gays.
- (C) cooperação com governos estrangeiros, por meio de legislação internacional.
- (D) internacionalização das paradas LGBT, por meio de campanhas publicitárias.

14 Analise a imagem a seguir.



Disponível em: <http://amazonia.org.br/2012/10/novo-mapa-mostra-que-malha-de-hidrovias-no-pais-chega-a-21-mil-km/>. Acesso em: 10 dez. 2018.

A hidrovia mais utilizada para o transporte de grãos voltado para o mercado externo é:

- (A) Paraguai.
- (B) Tocantins.
- (C) Paraná-Tietê.
- (D) São Francisco.

15 Analise o texto sobre a terra no Brasil.

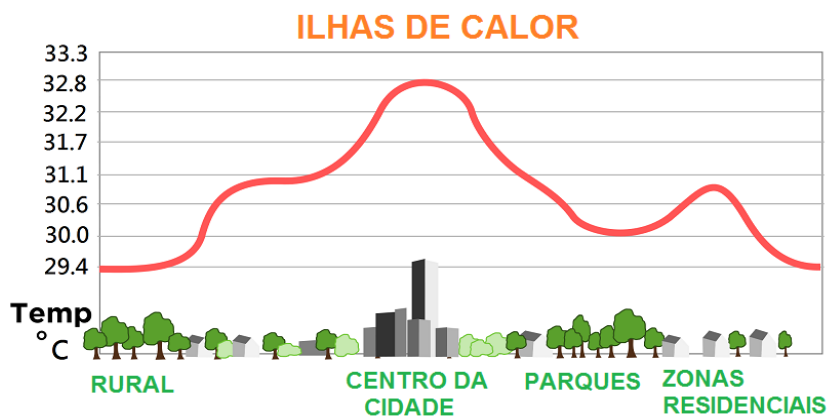
Em 1993, durante o governo do presidente Itamar Franco, a Lei n. 8629 reafirmou que a terra tem de cumprir uma função social. Foram definidos novos conceitos referentes às dimensões e classificações dos imóveis rurais. Com base no conceito de módulo rural foi utilizado o conceito de módulo fiscal. Entende-se por módulo fiscal a unidade de medida expressa em hectares, fixada para cada região. Ainda, segundo a Lei n. 8629, definiu-se a classificação dos imóveis rurais quanto ao tamanho, como, por exemplo, o imóvel rural com área inferior a um módulo fiscal.

ALMEIDA, L; RIGOLIN, T. *Fronteiras da Globalização*. O espaço brasileiro: natureza e trabalho. São Paulo: Ática, 2014, p.193. Adaptado.

O exemplo de imóvel rural classificado quanto ao tamanho é denominado:

- (A) Minifúndio.
- (B) Empresa rural.
- (C) Média propriedade.
- (D) Pequena propriedade.

16 Analise o gráfico a seguir.

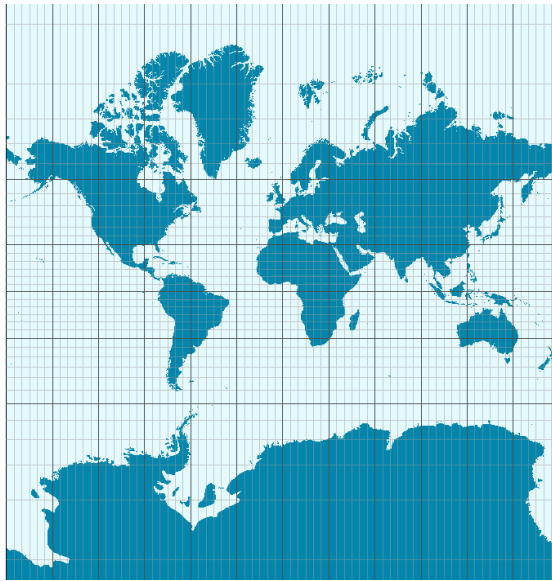


Disponível em: <https://sustentarqui.com.br/o-que-sao-ilhas-de-calor/>. Acesso em: 31 dez. 2018.

O problema ambiental representado no gráfico tem como causa:

- (A) a expansão das doenças respiratórias.
- (B) o aumento da velocidade média do vento.
- (C) o avanço da impermeabilização do solo urbano.
- (D) a diminuição da precipitação convectiva urbana.

17 Analise a imagem a seguir.



Disponível em: https://simple.wikipedia.org/wiki/Mercator_projection. Acesso em: 31 dez. 2108.

A projeção cartográfica apresentada é do tipo:

- (A) Plana.
- (B) Cônica.
- (C) Azimutal.
- (D) Cilíndrica.

18 Analise a imagem a seguir.

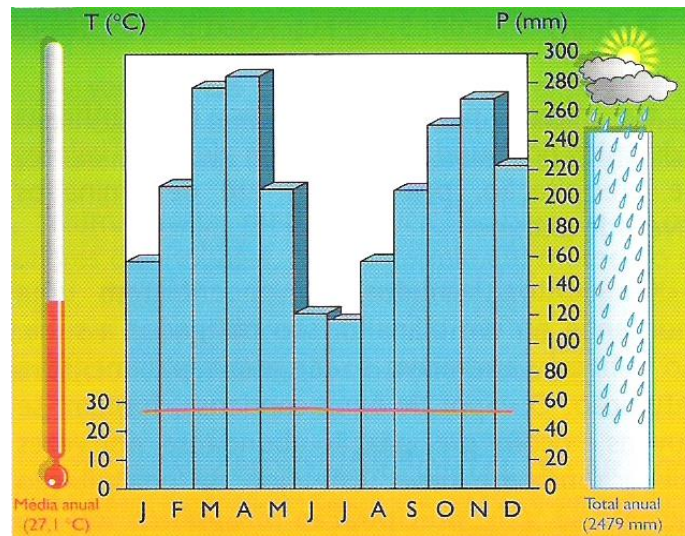


Disponível em: <https://gigantesdomundo.blogspot.com/2012/01/monte-roraima-chapada-mais-alta-do.html>. Acesso em: 31 dez. 2018.

Na imagem, registra-se uma forma de relevo com estrutura:

- (A) Plutônica.
- (B) Vulcânica.
- (C) Magmática.
- (D) Sedimentar.

19 Analise o gráfico abaixo.



Disponível em: http://www.citi.pt/citi_2005_trabs/antonio_carvalho/Tipos%20de%20Climas.htm. Acesso em: 31 dez. 2018.

O tipo de clima representado no gráfico é denominado:

- (A) Semiárido.
- (B) Equatorial.
- (C) Subtropical.
- (D) Temperado.

20 Observe a vegetação natural a seguir.



Disponível em: <https://www.estudopratico.com.br/mata-dos-cocais-relevo-caracteristicas-da-vegetacao-e-clima/>. Acesso em: 31 dez. 2018.

Essa vegetação natural é típica da zona de transição situada entre as regiões:

- (A) Sul e Sudeste.
- (B) Norte e Nordeste.
- (C) Nordeste e Sudeste.
- (D) Sudeste e Centro-Oeste.

